

муниципальное казенное учреждение
"Управление образованием
Баганского района"
632770, Российская Федерация,
Новосибирская область, с. Баган,
ул. Максима Горького, 13
Email: goubagan@mail.ru, bagan@mail.ru
тел/факс: 8(383-53) 21-735

от 15.11.18г. №

Работа

на муниципальном этапе Всероссийской олимпиады школьников
по истории
среди учащихся 6 классов
ученика 6 "А" класса

МБОУ Баганской средней общеобразовательной школы №1
Баганского района Новосибирской области

Принимала Никиты Александровича

Учитель: Устюжнина Наталья Александровна

И - 6.08



Муниципальный этап Всероссийской олимпиады школьников
2017/18 учебный год

Предмет <i>История</i>	Класс <i>6</i>	Дата <i>15 ноября 2018</i>	Время начала <i>10:00</i>	Время окончания <i>11:00</i>
---------------------------	-------------------	-------------------------------	------------------------------	---------------------------------

Задание 1. Верны ли следующие утверждения? («Да» – «Нет»). Ответы внесите в таблицу.

Максимальный балл за задание –12

1. Фриз – верхняя часть наружных стен храма в Греции.
2. Древние римляне и этруски считали божественной покровительницей своего народа львицу.
3. При царе Хаммурапи Вавилонское царство подчинило себе почти всю Месопотамию.
4. Первым правителем Франкского королевства, возникшим в конце V века, был Пипин Короткий.
5. На рубеже XVIII–XVII веков до н. э. Египет был завоёван кочевниками, с приходом которых в стране проявились лошади, которых ранее здесь не было.
6. Герцогом в период раннего Средневековья называли племенного князя (вождя).

Ответ:

1	2	3	4	5	6
<i>да</i>	<i>нет</i>	<i>да</i>	<i>нет</i>	<i>да</i>	<i>да</i>
<i>2</i>	<i>2</i>	<i>2</i>	<i>2</i>	<i>2</i>	<i>2</i>

Задание 2. В таблице перед вами перечень исторических событий (процессов). Выполните задания.

Максимальный балл за задание –22

Перечень событий (процессов)


А) Битва у Фермопил (Пелопоннес) (480 год до н.э.)	Б) Восточный поход Александра Македонского. Осада Тира (334–323 годы до н.э.)
В) Правление императора Цинь Шихуанди (221–207 годы до. н.э.)	Г) Начало Второй Пунической война. Переход войска Ганнибала через Альпы (218 год до н.э.)

1) Установите соответствие между данными событиями (процессами) и приведенными ниже изображениями: к каждому событию (процессу) подберите по одному изображению. Ответ занесите в таблицу.



Муниципальный этап Всероссийской олимпиады школьников
2017/18 учебный год

Предмет <i>История</i>	Класс <i>6</i>	Дата <i>15 ноября 2018</i>	Время начала <i>10:00</i>	Время окончания <i>11:00</i>
---------------------------	-------------------	-------------------------------	------------------------------	---------------------------------



Ответ:

А	Б	В	Г
<i>3</i>	<i>1.</i>	<i>4</i>	<i>2</i>

0 *5* *5* *0*
2) Прочтите отрывок из исторического источника и определите, о каком из данных событий (процессов) он повествует. В ответе запишите букву, которой обозначено это событие (процесс).

«Основная причина, которая предопределила выбор... Баркой маршрута нападения... заключалась в желании воспользоваться эффектом неожиданности. Так как в то время переход... из-за труднопроходимости и холодов многотысячной армии считался самоубийством, маршрут... необходимо было выбирать очень тщательно. Так, дорога для движения должна была быть проходимой для конных всадников, неповоротливых слонов, а также различных телег с провизией и снаряжением. Кроме того, путь не должен был занимать много времени, так как размер провизии был сильно ограничен».

0 Ответ: *Навчмеан*

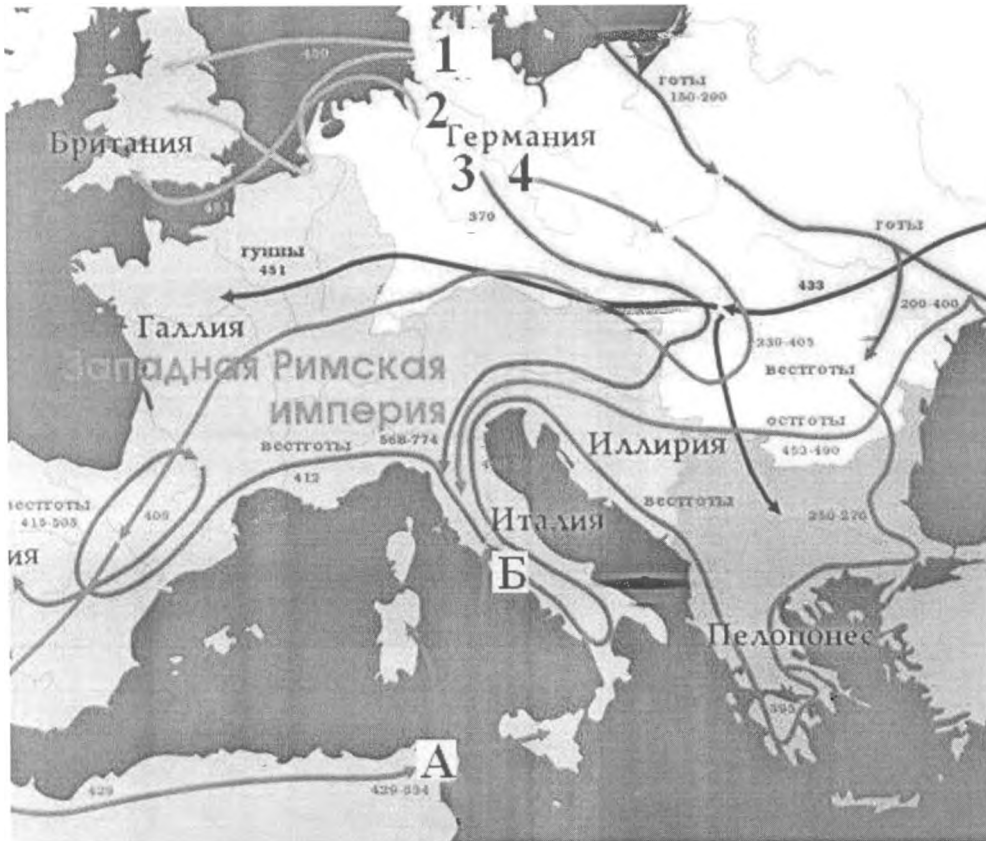


Муниципальный этап Всероссийской олимпиады школьников
2017/18 учебный год

Предмет	Класс	Дата	Время начала	Время окончания
История	6	15 ноября 2018	10:00	11:00

Задание 3. Внимательно рассмотрите схему и выполните предложенные задания.

Максимальный балл за задание—21



1. Напишите, под каким названием вошли в историю события, обозначенные на схеме стрелками.

Ответ: Великое переселение народов 3

2. Напишите названия племён, обозначенные на карте цифрами 1,2,3,4, перемещения которых показаны стрелками.

Ответ:
 1- Ашвы 3
 2- Саксы 3
 3- Вост. Готы 0
 4- Вест. Готы 0

3. Напишите названия городов, обозначенных на схеме буквами А и Б.

Ответ:
 А - 0
 Б - Рим 3






Муниципальный этап Всероссийской олимпиады школьников
2017/18 учебный год

Предмет	Класс	Дата	Время начала	Время окончания
История	6	15 ноября 2018	10:00	11:00

Задание 4. Геракл был одним из самых прославленных героев Древней Греции. Среди многочисленных мифов о Геракле наиболее известен цикл сказаний о 12 подвигах, совершенных Гераклом, когда он находился на службе у микенского царя Эврисфея.

Максимальный балл за задание – 23



1) Слева вы видите изображения, созданные по мотивам мифов, а справа – фрагменты текста мифа. Соотнесите иллюстрации с событиями, описанными в мифе. Ответ запишите в таблицу, вставив под буквенным обозначением фрагмента порядковый номер соответствующему этому фрагменту изображение.

Цифра	Фрагмент мифа	Буква	Изображение
1	Немейский лев наводил страх на все окрестности своими набегами. Геракл понял, что не настигнет зверя, если не измыслит хитрости. Он сложил перед первым ходом огромный костёр, чтобы зверь не вышел наружу, а сам поспешил ко второму ходу и целую ночь таскал к нему большие обломки скалы, пока наконец не завалил дыру до самого верха.	А	
2	Могучий герой смело пустился навстречу чудовищу. На глухом перекрестье они встретились. Бык, наклонив голову, со злобным мычаньем бросился на Геракла. Герой схватил его могучими руками за рога и прижал головой к земле. Как ни рвалось дикое животное, как ни храпело, как ни вращало налитыми кровью глазами, всё было тщетно.	Б	
3	Воздух гудел от их медных крыльев. Вдруг большая стрела ударила прямо в львиную пасть, зацепив волосы героя. Геракл поднял голову и увидел, что Стимфальские птицы кружась над его головой, стряхивают сверкающие перья прямо со своих крыльев. Каждое такое перо было	В	



**Муниципальный этап Всероссийской олимпиады школьников
2017/18 учебный год**

Предмет	Класс	Дата	Время начала	Время окончания
История	6	15 ноября 2018	10:00	11:00

	вдвое острее и тяжелее обыкновенной стрелы.		
4	Прямо к Гераклу ползло по болоту чудовище. Все девять змеиных голов страшно шипели, высунув раздвоенные жала. Геракл приказал Иолаю захватить на северный край болота, откуда дул ветер, и поджечь сухой тростник.	Г	
		Д	

Ответ:

Фрагмент мифа	1	2	3	4
Изображение	Б	Г	Д	В

5 5 5 5

2) Расположите фрагменты из мифов в последовательности совершения подвигов Гераклом. В ответе запишите цифры, под которыми они обозначены.

Ответ: Б, А, Г, Д, В

Задание 5. Что объединяет три из четырёх понятий в каждом ряду, какое является лишним? Свой ответ аргументируйте.

Максимальный балл за задание – 12

- Археология, этнография, антропология, бонистика
- Ручное рубило, скребок, палка-копалка, шалаш

Ответ:

3 Все эти понятия можно объединить к одному понятию История. Но бонистика и шалаш не относятся

Задание 6. Сгруппируйте перечисленные ниже предметы материальной культуры, найденные археологами на территории нашего края, по их назначению: для каких занятий и потребностей человека каменного века они были предназначены. Ответ занесите в таблицу в виде перечня цифр.

Максимальный балл за задание – 10



Муниципальный этап Всероссийской олимпиады школьников
2017/18 учебный год

Предмет	Класс	Дата	Время начала	Время окончания
История	6	15 ноября 2018	10:00	11:00

1) лук; 2) каменные дротики; 3) костяные иглы; 4) глиняные грузила для сетей; 5) костяные ножи; 6) тесла; 7) топоры; 8) наконечники стрел; 9) керамические сосуды; 10) крючки.

Ответ:

Занятия и потребности	Предметы материальной культуры (находки археологов)
3 Охота	1; 2; 8;
2 Рыболовство	4; 10
1 Изготовление одежды	3; 6
1 Приготовление пищи	9;
1 Обработка дерева	7;

Итого: 685